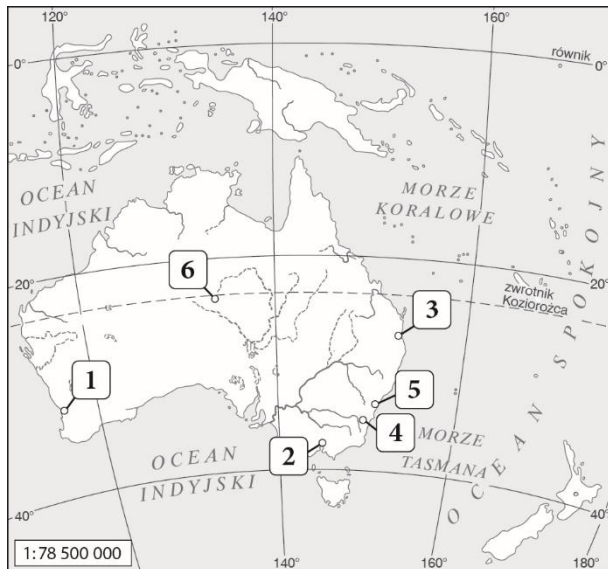


# Australia i Oceania. Obszary okołobiegunowe

## Test sprawdzający – rozdziały IV i V

Grupa A

Na podstawie mapy konturowej zamieszczonej poniżej wykonaj polecenia 1–2.



1. Zaznacz literami obiekty geograficzne, których nazwy podano poniżej. **0–5 p.**
- A. Zatoka Karpentaria.
  - B. Przylądek Jork.
  - C. Tasmania.
  - D. Cieśnina Torresa.
  - E. Wielkie Góry Wododziałowe.

2. Wpisz do tabeli właściwe nazwy miast zaznaczonych na mapie numerami (1–6), a następnie zamaluj sygnaturę oznaczającą największe miasto Australii. **0–3 p.**

Numer na mapie	Nazwa miasta
1.	
4.	

3. Uzupełnij zdanie, wpisując odpowiednią informację. **0–1 p.**
- Najwyższym punktem Antarktydy jest \_\_\_\_\_  
\_\_\_\_\_ o wysokości 4892 m n.p.m.

4. Wpisz podane nazwy do właściwych kolumn tabeli. **0–3 p.**

*niedźwiedź polarny, Grenlandia,  
Morze Weddella, pingwin,  
Morze Beauforta, Płaskowyż Polarny*

Arktyka	Antarktyka

5. Wyjaśnij znaczenie terminu *endemit*. **0–1 p.**

---



---



---

6. Oceń prawdziwość informacji. Zaznacz P, jeśli informacja jest prawdziwa, lub F, jeśli jest fałszywa. **0–2 p.**

1.	Australia leży w trzech strefach klimatycznych, a strefa klimatów podzwrotnikowych znajduje się w północnej części kontynentu.	P	F
2.	Rdzenną ludność Australii stanowią Aborygeni.	P	F
3.	Około 75% osób zatrudnionych w Australii pracuje w usługach.	P	F

7. Zaznacz podpunkt, w którym prawidłowo zestawiono nazwę regionu Oceanii z położonymi w nim wyspami. **0–1 p.**

- A. Mikronezja – Wyspy Marshalla.
- B. Melanezja – Kiribati.
- C. Polinezja – Wyspy Salomona.
- D. Nowa Zelandia – Wyspy Cooka.

8. Zaznacz prawidłowe dokończenie zdania. **0–1 p.**

- W centralnej Australii wydobywa się głównie
- A. rudy żelaza i manganu.
  - B. boksyty i złoto.
  - C. szmaragdy i szafiry.
  - D. ropę naftową i gaz ziemny.

imię i nazwisko

klasa

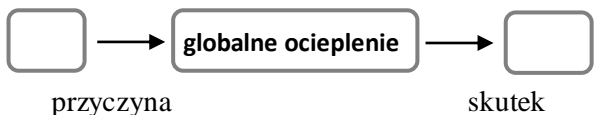
data

9. Skreśl w zdaniach błędne informacje na temat Arktyki i Antarktyki. **0-3 p.**

- A. Wokół bieguna północnego rozciąga się *Arktyka / Antarktyka*.
- B. Grubość lodolodu na Antarktydzie dochodzi do 840 / 4800 metrów.
- C. Znaczną część Oceanu Arktycznego pokrywa *lądolód / pak lodowy*.

10. Uzupełnij schemat, wpisując we właściwe miejsca litery oznaczające przyczynę i skutek globalnego ocieplenia. Następnie wyjaśnij znaczenie terminu *globalne ocieplenie*. **0-3 p.**

- A. Nadmierna emisja freonów.
- B. Podniesienie poziomu wszechoceanu.
- C. Emisja znacznych ilości tlenu węgla(IV) i metanu.
- D. Przyspieszenie procesu starzenia się skóry.



Globalne ocieplenie – \_\_\_\_\_  
 \_\_\_\_\_  
 \_\_\_\_\_

11. Zaznacz prawidłowe dokończenie zdania. **0-1 p.**

- Jako pierwszy do bieguna południowego dotarł
- A. Marek Kamiński w 1995 roku.
  - B. Roald Amundsen w 1898 roku.
  - C. Roald Amundsen w 1911 roku.
  - D. Robert E. Peary w 1909 roku.

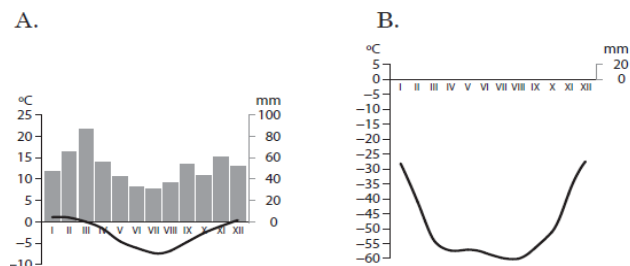
12. Podaj dwie zasady zawarte w Układzie Antarktycznym. **0-2 p.**

- \_\_\_\_\_  
 \_\_\_\_\_
- \_\_\_\_\_  
 \_\_\_\_\_

13. Wymień dwa walory turystyczne Australii i Oceanii, które przyciągają turystów w te rejony świata. **0-2 p.**

- \_\_\_\_\_  
 \_\_\_\_\_
- \_\_\_\_\_  
 \_\_\_\_\_

14. Na podstawie diagramów klimatycznych sporządzonych dla stacji znajdujących się na Antarktydzie wykonaj polecenia. **0-3 p.**



a) Wymień dwie cechy wspólne klimatu dla stacji A i B.

- \_\_\_\_\_  
 \_\_\_\_\_
- \_\_\_\_\_  
 \_\_\_\_\_

b) Uzupełnij zdanie.

Na wybrzeżu Antarktydy jest położona stacja \_\_\_\_\_, o czym świadczy \_\_\_\_\_  
 \_\_\_\_\_  
 \_\_\_\_\_

15. Określ, na których z podanych obszarów wykonano poniższe fotografie. **0-2 p.**

*Australia, Arktyka, Antarktyda, Oceania*



\_\_\_\_\_