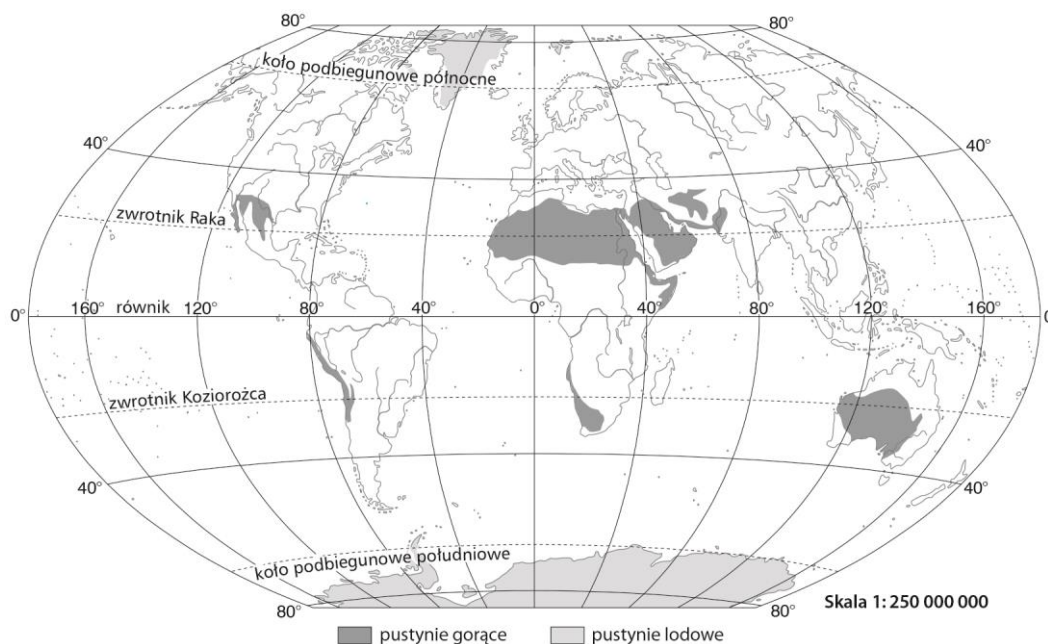


# Krajobrazy pustyni gorącej i pustyni lodowej

imię i nazwisko	
klasa	data

1. Wpisz na mapie numery, którymi oznaczono wymienione poniżej pustynie gorące i pustynie lodowe. Wykorzystaj informacje z atlasu geograficznego podane na mapach hipsometrycznych i krajobrazowych świata oraz poszczególnych kontynentów.



**Azja:** 1. Gobi, 2. Takla Makan, 3. Kyzyl-kum, 4. Ar Rab-al-Chali, 5. Thar. **Afryka:** 6. Sahara, 7. Namib, 8. Kalahari. **Ameryka Południowa:** 9. Atakama. **Australia:** 10. Wielka Pustynia Piaszczysta, 11. Wielka Pustynia Wiktorii, 12. Pustynia Gibsona. 13. **Grenlandia.** 14. **Antarktyda.**

2. Rozpoznaj na podstawie opisów rodzaje pustyni gorących, a następnie zapisz ich nazwy.

Pustynia pokryta masami piasku w postaci wydm:.....

Pustynia, na której możemy znaleźć grzyby skalne:.....

Pustynia pokryta niedużymi fragmentami skał i okruchami skalnymi:.....

3. Uzupełnij schemat na podstawie informacji z podręcznika. Uwzględnij na nim to, co jest potrzebne, by na pustyni powstał grzyb skalny.

$$\boxed{\phantom{\text{pustynia}}} + \boxed{\phantom{\text{skale}}} + \boxed{\phantom{\text{wiatr}}} =$$



4. Beduini to ludność koczownicza zamieszkująca północną część Afryki oraz Półwysep Arabski w Azji. Napisz w kilku zdaniach, co sprawia, że ci ludzie stale przemieszczają się z miejsca na miejsce.

.....

.....

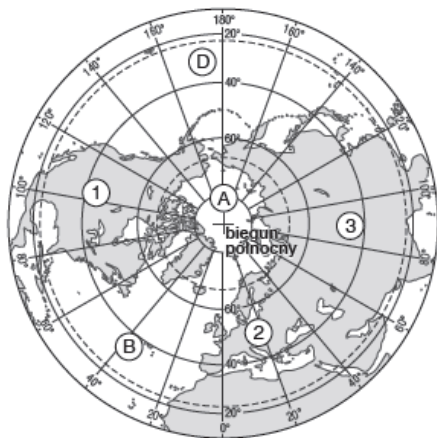
.....

.....

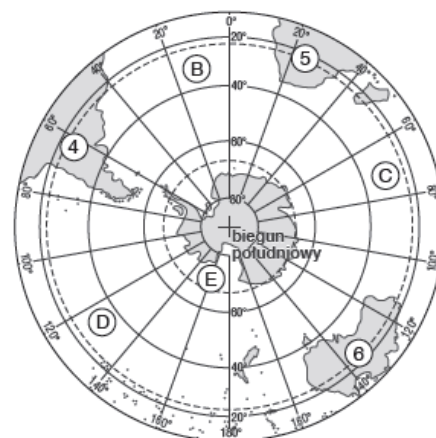


5. Wykonaj zadania na podstawie map z atlasu geograficznego.

- a) Wybierz i zaznacz właściwe podpisy pod mapami.
- b) Rozpoznaj na mapach i wpisz w odpowiednich miejscach nazwy kontynentów oznaczonych cyframi od 1 do 6 oraz oceanów oznaczonych literami od A do E.
- c) Zakreskuj obszary występowania łądολου.



Skala 1:250 000 000



Skala 1:250 000 000

1 Arktyka

Antarktyka

Arktyka

Antarktyka

Kontynenty:

Oceany:

1 - \_\_\_\_\_

2 - \_\_\_\_\_

3 - \_\_\_\_\_

4 - \_\_\_\_\_

5 - \_\_\_\_\_

6 - \_\_\_\_\_

A - \_\_\_\_\_

B - \_\_\_\_\_

C - \_\_\_\_\_

D - \_\_\_\_\_

E - \_\_\_\_\_