

Gospodarka Europy

Test sprawdzający – rozdział 4

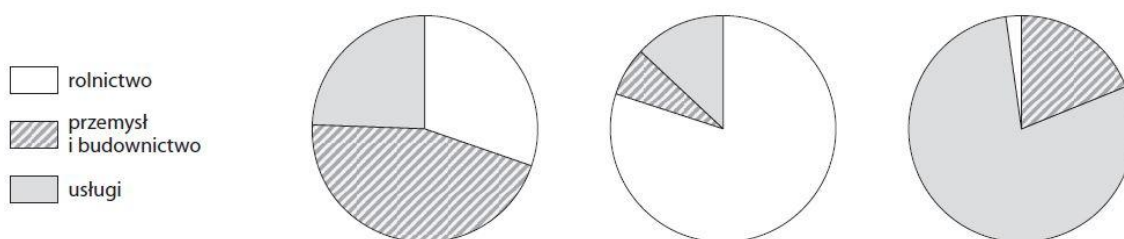
imię i nazwisko	
klasa	data

Grupa A

1. Podaj nazwę sektora gospodarki, którego dotyczy opis. 0–1 p.

Celem tego działu gospodarki jest zaspokajanie potrzeb ludzi, firm oraz organizacji.
Nie jest on związany z wytwarzaniem produktów.

2. Wykresy przedstawiają strukturę zatrudnienia w trzech państwach o różnym poziomie rozwoju gospodarczego. Zaznacz wykres przedstawiający strukturę zatrudnienia w kraju o najniższym poziomie rozwoju gospodarczego. Uzasadnij swój wybór. 0–2 p.



Uzasadnienie:

3. Uzupełnij tabelę dotyczącą warunków rozwoju rolnictwa i jego cech w Danii i na Węgrzech. Wpisz znak X we właściwych komórkach. 0–3 p.

Warunki rozwoju rolnictwa i jego cechy	Dania	Węgry
Klimat umiarkowany ciepły morski.		
Bardzo żyzne czarnoziemy.		
Wysoki poziom mechanizacji.		
Latem możliwe susze.		
Przewaga upraw zbóż (pszenicy, kukurydzy) i winorośli.		
Duże znaczenie hodowli bydła i produkcji mleka.		

4. Na podstawie poniższego tekstu wykonaj polecenia.

0-4 p.

Jest krajem bardzo wysoko rozwiniętym. Jego gospodarka opiera się na dogodnych warunkach naturalnych umożliwiających uprawę roślin, głównie pszenicy. Występowanie klimatu podzwrotnikowego w południowej części kraju sprzyja uprawie winorośli. Ten kraj słynie z produkcji win oraz serów. Na jego rozwój gospodarczy wpłynęły również bogate złoża surowców mineralnych, jednak współcześnie największe znaczenie ma produkcja samochodów, samolotów oraz wyrobów chemicznych i farmaceutycznych. Bardzo dobrze rozwinięte są tam również transport (kraj słynie z szybkich kolei), turystyka i telekomunikacja.

a) Podaj nazwę kraju, którego dotyczy powyższy opis.

b) Do podanych w tabeli sektorów gospodarki dopisz na podstawie tekstu po dwa rodzaje działalności.

Sektor gospodarki	Rodzaje działalności w opisywanym kraju
rolnictwo	_____

przemysł	_____

usługi	_____

5. Wymień cztery odnawialne źródła energii.

0-2 p.

1. _____

3. _____

2. _____

4. _____

6. Dopasuj rodzaje elektrowni do podanych opisów, a następnie podaj przykłady państw, w których większość energii wytwarza się takich elektrowniach.

0-3 p.

▪elektrownia cieplna ▪elektrownia słoneczna ▪elektrownia geotermalna ▪elektrownia wiatrowa

A. W elektrowniach tego rodzaju do produkcji energii wykorzystuje się ciepło pochodzące z wnętrza Ziemi.

Rodzaj elektrowni: _____ Państwo: _____

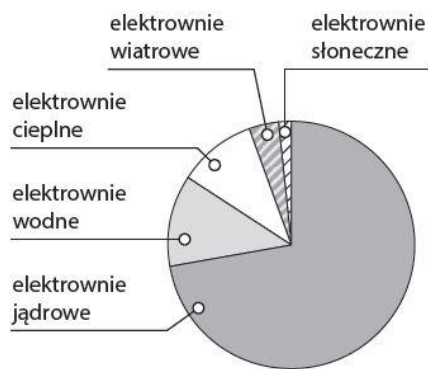
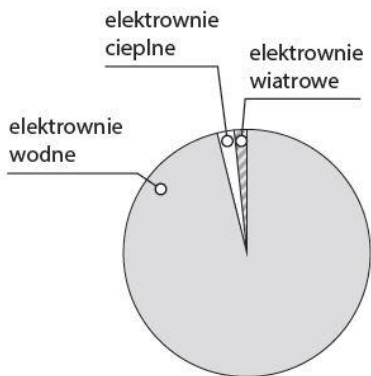
B. Elektrownie tego rodzaju do produkcji energii wykorzystują ruch powietrza. Lokalizuje się je głównie na wybrzeżach i w dolinach górskich.

Rodzaj elektrowni: _____ Państwo: _____

C. W takich elektrowniach wytwarza się energię dzięki spalaniu węgla kamiennego i węgla brunatnego.

Rodzaj elektrowni: _____ Państwo: _____

7. Rozpoznaj, na którym z poniższych diagramów przedstawiono strukturę produkcji energii we Francji, a na którym – w Norwegii. Podpisz diagramy nazwami tych państw. **0–2 p.**



Państwo: _____

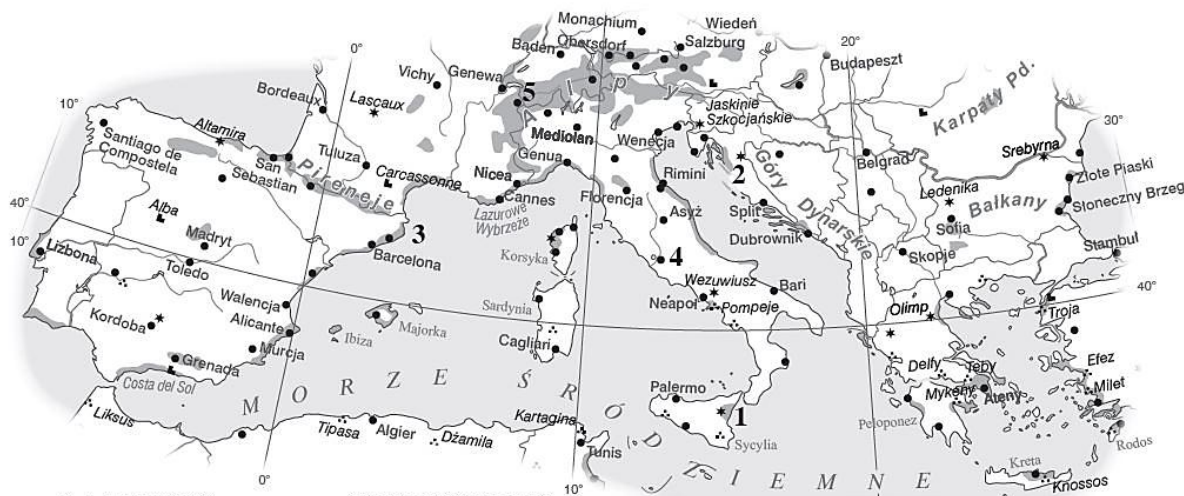
Państwo: _____

8. Uzupełnij tabelę. Wpisz we właściwych kolumnach po dwa przykłady przyrodniczych i kulturowych walorów turystycznych oraz elementów infrastruktury turystycznej Europy Południowej. **0–3 p.**

Walory przyrodnicze	Walory kulturowe	Infrastruktura turystyczna
1.	1.	1.
2.	2.	2.

9. Na podstawie mapy politycznej Europy podaj nazwy państw, których dotyczą poniższe opisy. Następnie wpisz nazwy państw we właściwych miejscach na mapie. **0–3 p.**

Atrakcja	Koloseum	Costa Brava	Chamonix-Mont-Blanc	Jeziora Plitwickie	Etna
Numer na mapie					



Skala 1:25 000 000

Objekty o dużym znaczeniu turystycznym:

- zamki, pałace, fortyfikacje
- ⊘ ruiny historyczne
- inne interesujące obiekty przyrodnicze i kulturowe

■ obszary turystyczno-wypoczynkowe o wybitnych walorach turystycznych

• popularne miejsca turystyczno-wypoczynkowe