

Usługi w Polsce. Zanieczyszczenie środowiska przyrodniczego Polski

imię i nazwisko

klasa **data**

Test sprawdzający – rozdziały V i VI

- 1** Podkreśl rodzaje działalności gospodarczej zaliczane do usług. **0–1 p.**

*produkcja środków transportu,
doradztwo finansowe, górnictwo ropy naftowej,
działalność administracji państwowej*

- 2** Przyporządkuj rodzajom transportu odpowiednie opisy (A–D). **0–3 p.**

a) Transport samochodowy – _____

b) Transport kolejowy – _____

c) Transport przesyłowy – _____

A. Umożliwia przewóz towarów i osób od drzwi do drzwi.

B. Tym rodzajem transportu nie przewozi się osób.

C. Dzięki pracom modernizacyjnym taboru w ostatnich latach udało się zwiększyć komfort podróży i bezpieczeństwo podróżujących.

D. Umożliwia pasażerom szybkie przemieszczanie się między kontynentami.

- 3** Na podstawie danych dotyczących przewozu pasażerów poszczególnymi rodzajami transportu w latach 2000 i 2015 uzupełnij zdania. **0–4 p.**

Rok	Liczba osób przewiezionych transportem				
	kolejowym (tys.)	samochodowym* (tys.)	mor-skim (tys.)	wodnym śród-lądowym (tys.)	lotni-czym (tys.)
2000	360 687	954 515	625	1 265	5 793
2015	277 321	416 774	597	1 762	7 288

* Dotyczy transportu samochodowego zarobkowego.

a) W 2015 roku najwięcej osób podróżowało transportem _____

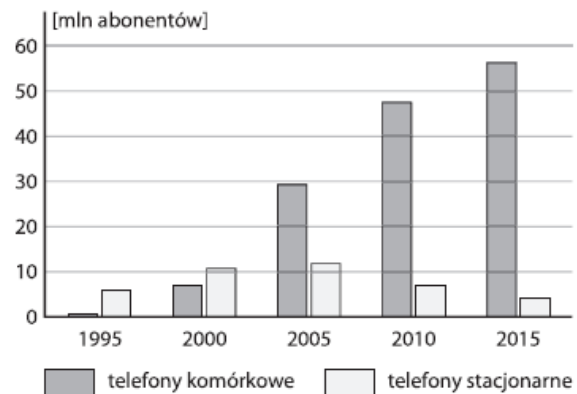
b) W 2000 roku transportem wodnym przewieziono _____ tys. pasażerów.

c) W latach 2000–2015 zmniejszyła się liczba osób przewiezionych między innymi transportem _____

d) Z transportu _____

korzysta mniej niż 1 mln pasażerów.

- 4** Na podstawie wykresu przedstawiającego liczbę abonentów telefonii stacjonarnej i komórkowej w Polsce w latach 1995–2015 podkreśl poprawne informacje w poniższych zdaniach. **0–2 p.**



a) W latach 1995–2005 liczba abonentów telefonii stacjonarnej *malala / wzrastala*.

b) W 2010 roku liczba abonentów telefonii komórkowej przewyższała liczbę abonentów telefonii stacjonarnej *około 2,5-krotnie / 6,5-krotnie*.

- 5** Podaj dwa przykłady wpływu transportu kolejowego na jakość życia mieszkańców. **0–2 p.**

- _____
- _____

- 6** Dopasuj do opisów celów wyjazdów turystycznych właściwy rodzaj turystyki wybrany spośród podanych. **0–2 p.**

poznawcza, religijna, wypoczynkowa, lecznicza

A. Dwutygodniowy wyjazd do sanatorium w Szczawnicy.

B. Uczestnictwo w pieszej pielgrzymce na Jasną Górę.

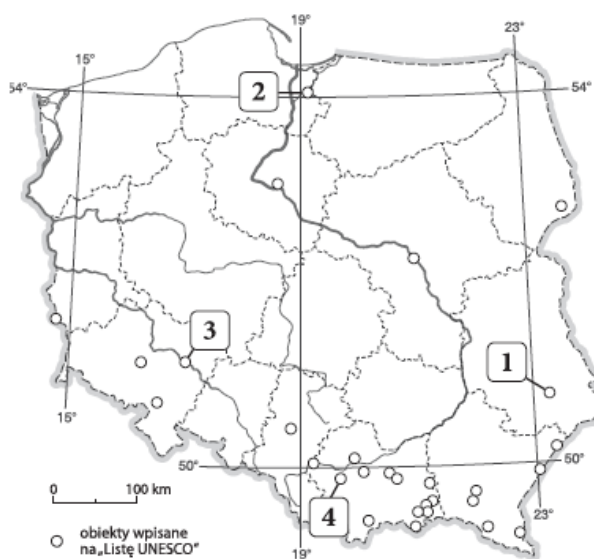
C. Tygodniowy rajd rowerowy Świętokrzyskim Szlakiem Archeo-Geologicznym.

7 Wpisz w odpowiednie miejsca tabeli poniższe określenia. **0-2 p.**

*liczne jeziora, parki narodowe,
miejsca kultu religijnego, zabytkowe kopalnie,
występowanie wód leczniczych, zamki i pałace*

Walory przyrodnicze	Walory kulturowe

8 Przyporządkuj nazwom obiektów wpisanych na Listę UNESCO cyfry, którymi zaznaczono te obiekty na mapie. **0-2 p.**



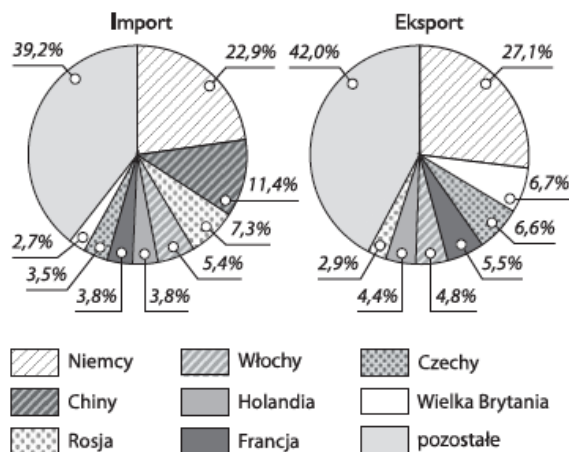
- A. Stare Miasto w Zamościu – _____
- B. Kalwaria Zebrzydowska: manierystyczny zespół architektoniczny i krajobrazowy oraz parkpielgrzymkowy – _____
- C. Zamek krzyżacki w Malborku – _____
- D. Hala Stulecia we Wrocławiu – _____

9 Wyjaśnij, kiedy saldo bilansu handlowego jest dodatnie. **0-1 p.**

10 Podkreśl nazwy trzech towarów eksportowych, z których Polska słynie na świecie. **0-1 p.**

*meble, komputery osobiste, produkty mleczarskie,
węgiel brunatny, mrożonki, statki pasażerskie*

11 Na podstawie wykresów przedstawiających głównych partnerów handlowych Polski w 2015 roku wykonaj polecenia. **0-2 p.**



a) Uzupełnij zdanie właściwą nazwą państwa.
Główny partner handlowy Polski w imporcie to _____

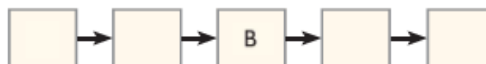
b) Zaznacz poprawne dokończenie zdania.

W 2015 roku Polska miała ujemne saldo handlu zagranicznego między innymi z

- A. Holandią i Niemcami.
B. Rosją i Włochami.
C. Czechami i Chinami.

12 Uzupełnij schemat tak, aby prawidłowo przedstawiał proces powstawania kwaśnych opadów. **0-2 p.**

- A. Spalanie węgla kamiennego i emitowanie do atmosfery między innymi tlenku siarki oraz tlenku węgla(IV).
B. Powstawanie kwaśnych opadów.
C. Zakwaszenie gleb i wód.
D. Obumieranie roślin.
E. Reakcja tlenków siarki i azotu z parą wodną.



13 Oceń prawdziwość informacji. Zaznacz P, jeśli informacja jest prawdziwa, lub F, jeśli jest fałszywa. **0-3 p.**

Do substancji szkodliwych dla atmosfery zalicza się między innymi tlenek siarki(IV), tlenki azotu i metale ciężkie.	P	F
Najbardziej zanieczyszczonym regionem w Polsce jest Nizina Podlaska.	P	F
Zanieczyszczenie środowiska nie ma większego wpływu na zdrowie ludzi.	P	F
Eutrofizacja to inaczej nadmierne użyźnienie wód.	P	F