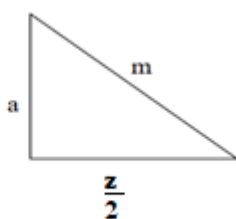
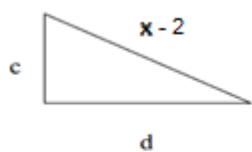
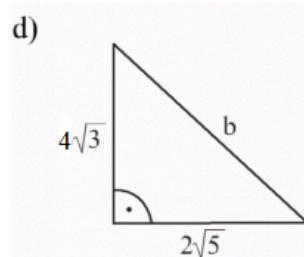
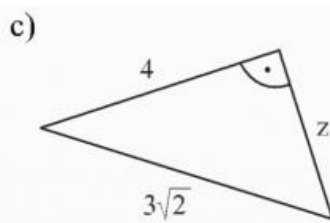
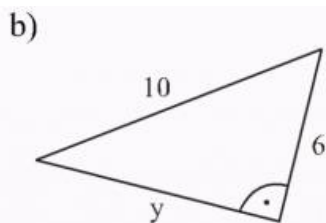
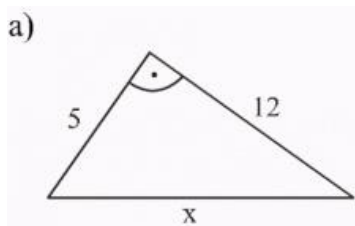


.....

1. Zapisz twierdzenie Pitagorasa dla następujących trójkątów:



2. Oblicz długości pozostałych boków trójkąta:



3. Oblicz przekątną prostokąta o bokach 5cm i 10cm (zrób rysunek z oznaczeniami)

4. Oblicz wysokość i pole trapezu równoramiennego o podstawach 5cm i 17cm i ramieniu 10cm (zrób rysunek z oznaczeniami)